	EMEB ALFREDO DE ALMEIDA	PROFESSOR(A) DEISE	CLASSE: 4º B	DATA: 26/04 À 30/04
SEGUNDA - FEIRA	TERÇA-FEIRA	QUARTA-FEIRA	QUINTA -FEIRA	SEXTA-FEIRA
<p>➔ CABEÇALHO</p> <p>➔ VÍDEO: DESCOBRIMENTO DO BRASIL https://youtu.be/59eUP9Du7o8 https://youtu.be/TlgfiLPEII0</p> <p><u>PORTUGUÊS - HISTÓRIA</u> - JOGO - TIRADENTES https://wordwall.net/pt/resorce/14798666/tiradentes/tiradentes-21-de-abril</p> <p>- Interpretação de texto DESCOBRIMENTO DO BRASIL</p> <p><u>MATEMÁTICA</u> - Unidade de Milhar - sequência numérica - escrita dos números</p> <p>AULA AO VIVO 15:00</p> <p>-Correção e Análise da prova de matemática</p>	<p>➔ CABEÇALHO</p> <p>➔ VÍDEO:</p> <p><u>INGLÊS</u></p> <p><u>ED. FÍSICA</u></p> <p><u>PORTUGUÊS</u></p> <p>- Leitura e Interpretação de texto</p> <p><u>MATEMÁTICA</u></p> <p>- Avaliação Diagnóstica de Matemática</p> <p>AULA AO VIVO 15:00</p> <p>- Avaliação Diagnóstica de Matemática</p>	<p>➔ CABEÇALHO</p> <p>➔ VÍDEO: QUANDO EU CRESCER https://youtu.be/1ThLB9spjNM</p> <p><u>ARTES</u></p> <p><u>HISTÓRIA</u></p> <p>- Dia do Trabalho - profissões</p> <p><u>PORTUGUÊS</u></p> <p>- Avaliação Diagnóstica</p> <p>AULA AO VIVO 15:00</p> <p>- Avaliação Diagnóstica de Português</p>	<p>➔ CABEÇALHO</p> <p><u>ARTES</u></p> <p><u>MATEMÁTICA</u></p> <p>- Continuação: Avaliação Diagnóstica</p> <p><u>PORTUGUÊS</u></p> <p>- Pontuação</p> <p>https://youtu.be/AjZ_q7EjVg</p> <p>-CORREÇÃO DE ATIVIDADES</p>	<p>➔ CABEÇALHO</p> <p>➔ VÍDEO: DIA DO TRABALHADOR https://www.youtube.com/watch?v=xfVV5RyxZeA</p> <p><u>GEOGRAFIA – HISTÓRIA</u></p> <p>- Atividade dia do trabalho Interpretação de texto</p> <p><u>MATEMÁTICA</u></p> <p>- contas subtração - problemas</p> <p>AULA AO VIVO 15:00</p> <p>- Avaliação Diagnóstica de Português – PROD. TEXTO</p>

O DESCOBRIMENTO DO BRASIL

A expedição de Pedro Álvares Cabral chegou às terras brasileiras no dia 22 de abril de 1500. Ao aproximar-se das terras brasileiras, avistaram um monte e lhe deram o nome de Monte Pascoal, por estarem na época da Páscoa.


Aportaram em Porto Seguro, no Estado da Bahia, atual Baía de Cabrália. Quando desembarcaram, Pero Vaz de Caminha, escrivão da esquadra portuguesa, escreveu ao rei de Portugal contando a beleza da terra aqui encontrada.

No dia 26 de abril, foi celebrada a primeira missa no Brasil, por Frei Henrique Soares.

Em 1º de maio, Cabral tomou posse da terra em nome do rei de Portugal.

Os portugueses deram outros nomes à terra brasileira antes de se chamar Brasil: Ilha de Vera Cruz e Terra de Santa Cruz.

O nome Brasil foi escolhido por causa da madeira pau-brasil, que aqui era encontrada em grande quantidade. O pau-brasil era uma madeira muito utilizada na Europa, para fazer navios e tingir roupas. A sua cor é vermelha como brasa, daí o nome Brasil.



LIGUE-SE NESTA

① Qual foi o nome que recebeu o primeiro monte avistado pelos portugueses? E por que recebeu esse nome?

② Qual foi a data de descobrimento do Brasil?

- 22 de maio de 1500.
- 20 de abril de 1500.
- 22 de abril de 1500.

③ Quem comandava a expedição que descobriu o Brasil?

- Pedro Álvares Cabral.
- Frei Henrique Soares.
- Pero Vaz de Caminha.

④ A primeira carta enviada ao rei de Portugal foi escrita por:

- Pedro Álvares Cabral.
- Frei Henrique Soares.
- Pero Vaz de Caminha.

⑤ Qual o Estado em que a expedição aportou?

- Rio de Janeiro.
- Bahia.
- São Paulo.

⑥ Quais os outros nomes que o nosso país recebeu antes do nome Brasil?

⑦ Por que o Brasil recebeu esse nome?



1. Observe os números da tabela:

7164	7241	7685	7672
8007	7008	8668	8125
7252	7314	7994	7538
8360	8529	8299	7841



Faça sua
tarefa com
capricho e
atenção.

a) Escreva os números que são **MENORES** que **8300** em ordem **CRESCENTE**:

b) Escreva os números que são **MAIORES** que **7000** em ordem **DECRESCENTE**:

2. Escreva como se lê cada um dos números a seguir:

a) 4716 - _____

b) 2483 - _____

c) 6642 - _____

d) 1001 - _____

e) 929 - _____

f) 1706 - _____

g) 8457 - _____

h) 3693 - _____

i) 5119 - _____

j) 7827 - _____

3. Complete com o:

→sucessor de: a) 1019 ____ b) 2599 ____ c) 7109 ____ d) 4248 ____ e) 999 ____

→antecessor de: a) 5100 ____ b) 1299 ____ c) 1310 ____ d) 3125 ____ e) 5311 ____

Pontuação

O texto abaixo está sem a pontuação correta. Utilize . ! : ? – para pontuar o texto.

Pom-Pom, o médico da floresta

Um dia, Pom-Pom estava trabalhando no bosque atrás de sua cabana quando escutou uma voz assim ■

■ Ai ui ui ui estou doente, ai ■

■ O que está acontecendo ■ – perguntou ele – Preciso ver quem está gemendo desse jeito ■

■ Ele deu a volta em torno de sua casinha e viu sua amiga borboleta pousada sobre uma flor ■

■ O que aconteceu, borboleta ■

■ Ai, Pom-Pom, talvez você possa me ajudar ■ Acho que quebrei a asa ■

Pom-Pom, que conhecia um pouco de medicina, disse ■

■ Mostre onde está doendo ■

Após examiná-la disse ■

■ Quebrada mesmo ■ Vou dar um jeito nisso – disse Pom-Pom ■

AS ESTRELAS



Dona Benta continuava com os olhos nas estrelas. Súbito, Narizinho, que estava em outro degrau da escada fazendo tricô, deu um berro.

— Vovó, Emilia está botando a língua para mim!

Mas Dona Benta não ouviu. Não tirava os olhos das estrelas. Estranhando aquilo, os meninos foram se aproximando. Ficaram também a olhar para o céu, em procura do que estava prendendo a atenção da boa velha.

— Que é, vovó, que a senhora está vendo lá em cima? Eu não estou enxergando nada — disse Pedrinho.

Dona Benta não pôde deixar de rir-se. Pôs nele os olhos, puxou-o para o seu colo e falou:

— Não está vendo nada, meu filho? Então olha para o céu estrelado e não vê nada?

— Só vejo estrelinhas — murmurou o menino.

— E acha pouco, meu filho? Você vê uma metade do universo e acha pouco? Pois saiba que os astrônomos passam a vida inteira estudando as maravilhas que há nesse céu em que você só vê estrelinhas. É que eles *sabem* e você *não sabe*. Eles sabem ler o que está escrito no céu — e você nem desconfia que haja um milhão de coisas escritas no céu...

— Desconfio sim, vovó, mas fico nisso. Sou muito bobinho ainda.

— Bobinho como todos os grandes astrônomos na sua idade, meu filho. Os maiores sábios do mundo foram bobinhos como você, quando crianças — mas ficaram sábios com a idade, o estudo e a meditação.

Monteiro Lobato

COMPREENDENDO O TEXTO

1- Responda de acordo com o texto:

No momento em que olhava as estrelas Dona Benta foi interrompida por....

- () Emilia
- () Pedrinho
- () Narizinho

2- O que Emilia fez para incomodar Narizinho?

3- Identifique o nome do autor da história e escreva abaixo.

4- Numere de acordo com os acontecimentos da história.

- () Dona Benta disse que os astrônomos sabiam ler o que estava escrito no céu
- () Pedrinho disse à Dona Benta que era bobinho.
- () Dona Benta olhava as estrelas
- () Narizinho deu um berro chamando a atenção de Dona Benta
- () Dona Benta disse que os maiores sábios do mundo foram bobinhos como Pedrinho quando eram criança.

5- Você acha que Dona Benta estava certa em afirmar que fica-se sábio com o tempo estudo e meditação?

NOME: _____

DATA: _____



1. Leitura



Emprego

Vamos arranjar um emprego para o bicho-preguiça?

- Que tal carteiro?
- Ai ninguém recebe cartas.
- Que tal bombeiro?
- Ai o fogo queima tudo.
- Que tal maquinista?
- Ai o trem nunca mais chega.
- Que tal dentista?
- Ai ficamos todos banguelas.
- Então só se for emprego de bicho-preguiça no zoológico.
- Isso mesmo!
- Lógico!

Paes, José Paulo. Olha o bicho. São Paulo: Ática, 2000.






2. Circule no texto e cite cada profissão do texto:

NOME: _____

DATA: _____



3. Complete o quadro com as ocupações que cada profissão tem:

PROFISSÃO	O QUE FAZ	INSTRUMENTO DE TRABALHO
	----- ----- -----	----- ----- -----
	----- ----- -----	----- ----- -----
	----- ----- -----	----- ----- -----
	----- ----- -----	----- ----- -----
	----- ----- -----	----- ----- -----

Escola: _____
Aluno (a): _____

Dia do trabalho

Comemoramos no dia 1º de maio o dia do trabalho, a data foi criada para celebrar as vitórias que os trabalhadores foram conquistando, durante muitos anos de luta por melhores salários e melhores condições de trabalho. Os trabalhadores eram obrigados a trabalhar 13 horas por dia, isso era muito cansativo e muitos ficavam doente, então eles começaram a se organizar e exigir dos patrões e dos governos leis que os protegessem.

Em 1886 fizeram uma grande manifestação nas ruas de Chicago e nos Estados Unidos, pedindo redução da jornada de trabalho de 13 para 8 horas por dia. Para somarem as forças e serem ouvidos os trabalhadores passaram a se organizar em grupos chamados de sindicatos, durante anos lutam por melhorias, porém só em 1919, o senado francês criou a jornada de 8 horas diárias de trabalho e proclamou o dia 1º de maio como dia do trabalho e feriado nacional.

Deste então este dia passou a ser marcado por manifestações de trabalhadores no mundo inteiro. No Brasil também é feriado nacional e muitas categorias de funcionários públicos e trabalhadores da iniciativa privada fazem manifestações reivindicando dos patrões melhores salários e condições dignas de trabalho. Todo trabalho é digno e os trabalhadores merecem respeito não importa qual seja a sua profissão.

Compreendendo o texto

Em qual dia comemoramos o dia do trabalho?

Por que temos uma data comemorativa ao dia do trabalho?

O que acontecia com os trabalhadores quando eram obrigados a trabalhar 13 horas por dia?

Quando e quem criou o feriado do dia do trabalho?

Por que todo trabalho é importante?

O que aconteceria se ninguém quisesse trabalhar como gari?

Complete as frases com as profissões:

Quem constrói casas é o _____

Quem ensina os alunos é o _____

Quem faz pão é o _____

Quem limpa a casa é a _____

Quem costura as roupas é a _____

Quem dirige a escola é o _____

Quem dirige caminhões transportando mercadorias é o _____

Qual é a profissão de seu pai? _____

Em que profissão trabalha sua mãe? _____

Em que profissão você gostaria de trabalhar? Por quê?

Escola: Data:/...../.....
Aluno(a):

MATEMÁTICA (Situações-problema)

1) Ontem Marcela fez aniversário. Ela nasceu em 1 989. Quantos anos ela tem agora?
Cálculo
Resposta


2) A capacidade de um teatro é de 493 espectadores. Já foram vendidos 145 ingressos para a sessão de hoje. Quantas pessoas ainda podem comprar ingresso?
Cálculo
Resposta

3) A biblioteca da escola de Carlos tem 5 114 livros. Hoje só há 4 218. Quantos livros estão emprestados?
Cálculo
Resposta

4) Você já ouviu falar em Monteiro Lobato, autor das histórias do Sítio do Pica-pau Amarelo? Em 18 de abril de 2012, comemora-se 130 anos de seu nascimento. Calcule o ano de sua morte, sabendo que ele viveu 66 anos.
Cálculo
Resposta

5) Veja o preço de alguns brinquedos à venda em uma loja e responda às perguntas a seguir.


Mercadorias	Preço
boneca que fala	R\$ 216,00
boneca que anda	R\$ 190,00
boneca que faz pipi	R\$ 187,00
bicicleta de 18 marchas	R\$ 353,00
autorama	R\$ 99,00
videogame	R\$ 209,00



a) O senhor Sílvio comprou as 3 bonecas. Quanto ele gastou?
.....

b) Dona Ângela tem 500 reais e quer comprar 2 brinquedos. Se ela comprar a bicicleta, poderá comprar outro brinquedo? Qual?
.....

c) Gustavo tem 150 reais. Quanto falta para ele poder comprar o videogame?
.....



d) Calcule a diferença entre o preço da boneca mais cara e o preço da boneca mais barata.
.....

e) Quantos reais o videogame custa a mais que o autorama?
.....